


Fiche 2a


Trésors réutilisables



Chaise
27,25 \$



Lampe
18,75 \$



Étagère
35,35 \$



Planche à neige
59,95 \$



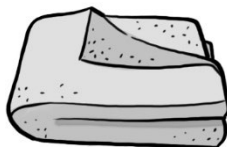
Jeu vidéo
12,30 \$



Sac à dos
18,99 \$



Montre
36,90 \$



Couverture
28,80 \$



Lanterne
19,40 \$



Gant de baseball
26,50 \$



Appareil photographique
40,15 \$



Moniteur
29,95 \$

Nom _____ Date _____

Fiche 2b

Trésors réutilisables (suite)

Tableau de résultats

Tu as 100 \$ pour acheter 3 articles à un magasin d'articles usagés.
Choisis 3 articles.
Justifie tes choix.

Fais une estimation du coût total des 3 articles.

Calcule le coût total des 3 articles.
Montre ta réflexion.

Combien de monnaie recevras-tu des 100 \$?
Montre ton travail.

Achète autant d'articles que tu veux pour dépenser
aussi près de 100 \$ sans dépasser.