

Fiche 1a


# Équipement de sport



Panier de basketball  
387 \$



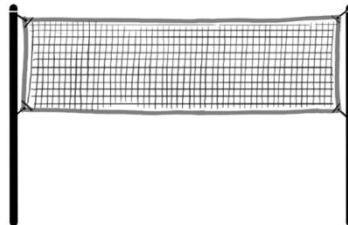
Tapis roulant  
465 \$



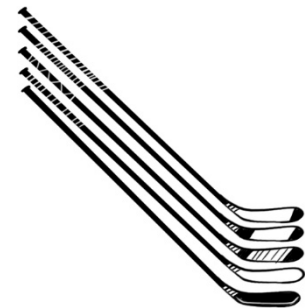
Vélo d'exercice  
349 \$



Table de ping-pong  
251 \$



Filet de volleyball  
65 \$



Bâtons de hockey  
199 \$



Ballons de soccer  
99 \$

Nom \_\_\_\_\_ Date \_\_\_\_\_

Fiche 1b

## Équipement de sport (suite)

### Tableau de résultats

Ton école a reçu une subvention de 1 000 \$ pour acheter de l'équipement de sport pour le centre communautaire. Choisis 3 pièces d'équipement.

Fais une estimation du coût total des 3 pièces d'équipement.

Explique comment l'estimation du coût t'a aidé à décider quoi acheter.

Calcule le coût total des 3 pièces d'équipement. Montre ta réflexion.

Combien de monnaie reste-t-il ?  
Montre les stratégies que tu as utilisées.

Choisis autant de pièces d'équipement que tu veux, essaie de dépenser aussi près de 1 000 \$ que possible sans aller au-delà.