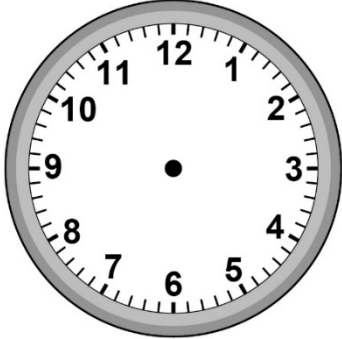


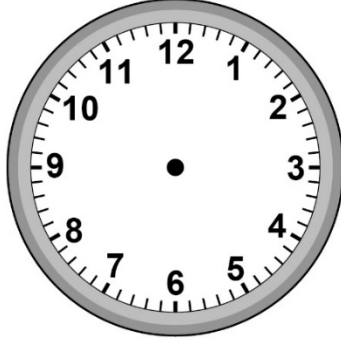
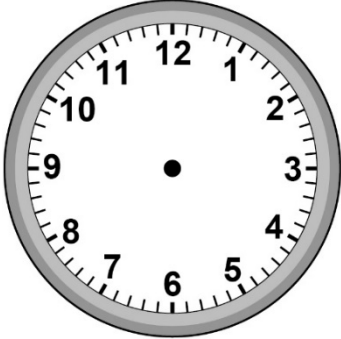



La mesure
Unité 2, Fiche 2

Heures de début et de fin

Heure du début	Heure de la fin
Heure : _____ 	Heure : _____ 
Durée : $\frac{1}{2}$ h ou _____ min	
Heure : _____ 	Heure : _____ 
Durée : $\frac{2}{3}$ h ou _____ min	
Heure : _____ 	Heure : _____ 
Durée : $\frac{3}{4}$ h ou _____ min	