

Évaluation de l'activité 5

Déterminer le mode et la moyenne

Lire et interpréter des données affichées

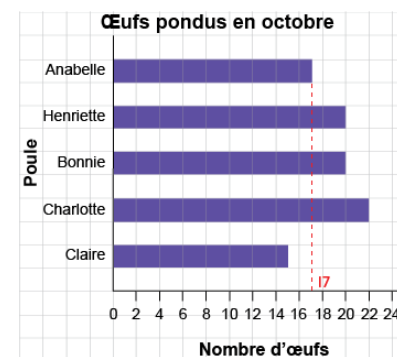
Remarquer la forme de base du diagramme

« Cette bande est la plus longue. Cette bande est la plus courte. »

Lire des données en comptant les symboles ou les carrés par bonds

« 2, 4, 6, ..., 16, 18, 20 carrés sont ombragés. Bonnie a pondu 20 œufs en octobre. »

Utiliser l'échelle pour lire les données



« La bande est à mi-chemin entre 16 et 18, elle a donc une longueur de 17. »

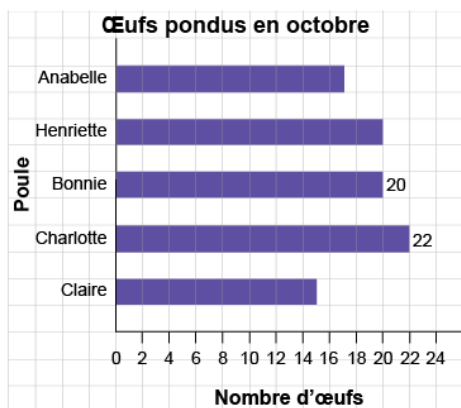
Observations et documentation

Évaluation de l'activité 5

Déterminer le mode et la moyenne


Lire et interpréter des données affichées (suite)

Faire des comparaisons directes entre les données



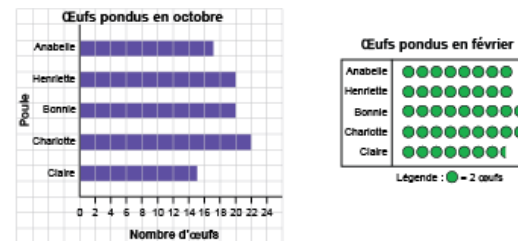
« Charlotte a pondu 2 œufs de plus que Bonnie. »

Décrire la forme des données (p. ex., déterminer le mode)



« 16 œufs ont été pondus le plus souvent. »

Répondre à des questions et tirer des conclusions à partir de données



« Plus d'œufs ont été pondus en octobre qu'en février. »

Observations et documentation