

Mètres, centimètres ou millimètres ?

La longueur d'un stylo



Nous utiliserons des


mm **cm** **m**

Nous utiliserons une

règle ou **règle d'un mètre**

Notre mesure est

La longueur d'un tableau d'affichage



Nous utiliserons des

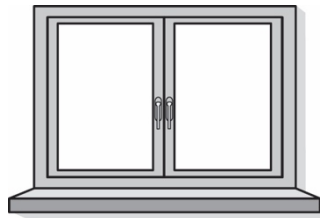
mm **cm** **m**

Nous utiliserons une

règle ou **règle d'un mètre**

Notre mesure est

La longueur du rebord d'une fenêtre



Nous utiliserons des

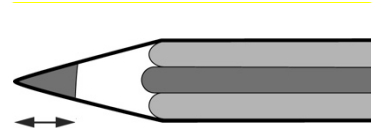
mm **cm** **m**

Nous utiliserons une

règle ou **règle d'un mètre**

Notre mesure est

Pointe de crayon



Nous utiliserons des

mm **cm** **m**

Nous utiliserons une

règle ou **règle d'un mètre**

Notre mesure est

Fiche 48b

Mètres, centimètres ou millimètres ? (pour Enrichissement)

**La longueur
de ton soulier**



Nous
utiliserons des

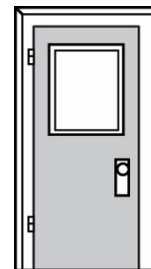
mm cm m

Nous utiliserons une

règle ou règle d'un mètre

Notre mesure est

**La hauteur de la
porte de la salle
de classe**



Nous utiliserons
des

mm cm m

Nous utiliserons une

règle ou règle d'un mètre

Notre mesure est

**La hauteur
d'un camarade
de classe**



Nous utiliserons
des

mm cm m

Nous utiliserons une

règle ou règle d'un mètre

Notre mesure est

Largeur d'une lettre dans un livre



Nous utiliserons des

mm cm m

Nous utiliserons une

règle ou règle d'un mètre

Notre mesure est

