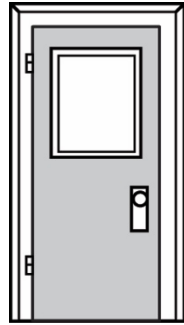


## Combien de mètres ? (partie 1)

**La hauteur de la porte de la salle de classe**



Notre estimation est

\_\_\_\_\_

Notre mesure est

\_\_\_\_\_

**La longueur du bureau de l'enseignant**




Notre estimation est

\_\_\_\_\_

Notre mesure est

\_\_\_\_\_

**La largeur de la fenêtre**



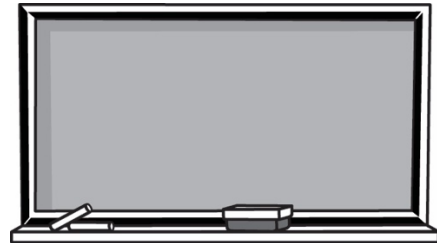
Notre estimation est

\_\_\_\_\_

Notre mesure est

\_\_\_\_\_

**La longueur du tableau noir**



Notre estimation est

\_\_\_\_\_

Notre mesure est

\_\_\_\_\_

## Combien de mètres ? (partie 2)

**La largeur du corridor**



Notre estimation est

\_\_\_\_\_

Notre mesure est

\_\_\_\_\_

**La longueur du tableau blanc**




Notre estimation est

\_\_\_\_\_

Notre mesure est

\_\_\_\_\_

**La longueur de la salle de classe**



Notre estimation est

\_\_\_\_\_

Notre mesure est

\_\_\_\_\_

**La longueur de la bibliothèque**



Notre estimation est

\_\_\_\_\_

Notre mesure est

\_\_\_\_\_