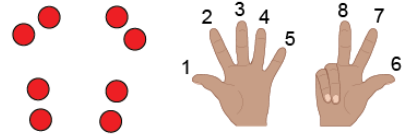
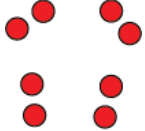
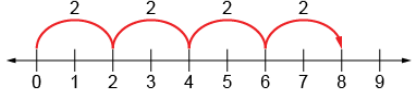

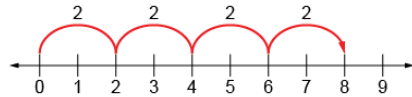



Évaluation de l'activité 18

Examiner l'addition répétée

Multiplier des nombres à 1 chiffre			
<p>Regroupe des objets et les compte par unités</p> 	<p>Regroupe des objets et les compte par bonds</p>  <p>« 2, 4, 6, 8 »</p>	<p>Utilise l'addition répétée</p>  <p>« $2 + 2 + 2 + 2 = 8.$ »</p>	<p>Modélise en pensant à la multiplication</p>  <p>« 4 rangées de 2 font 8. »</p>
Observations et documentation			
<p>Comprend la relation entre les opérations</p>  <p>« Je peux penser à $2 + 2 + 2 + 2 = 8$ comme étant 4 groupes de 2. »</p>	<p>Utilise le symbole de multiplication</p> <p>« $4 \times 2 = 8$ »</p> 	<p>Multiplie avec aisance (p. ex., utiliser les propriétés de la multiplication)</p> <p>« $4 \times 2 = 8$ $2 \times 4 = 8$ »</p>	<p>Crée et résout des problèmes comprenant des groupes égaux</p> <p>$4 \times 2 = 8$</p> <p>« Il y a 4 bicyclettes dans la remise. Combien de roues y a-t-il en tout ? »</p>
Observations et documentation			