

Nom \_\_\_\_\_ Date \_\_\_\_\_

Fiche 9a

## Deux attributs qui changent (partie 1)

Quels attributs changent dans chaque régularité ? Encerle le motif.  
Quelle est la régularité de chaque attribut ?



Les attributs qui changent :

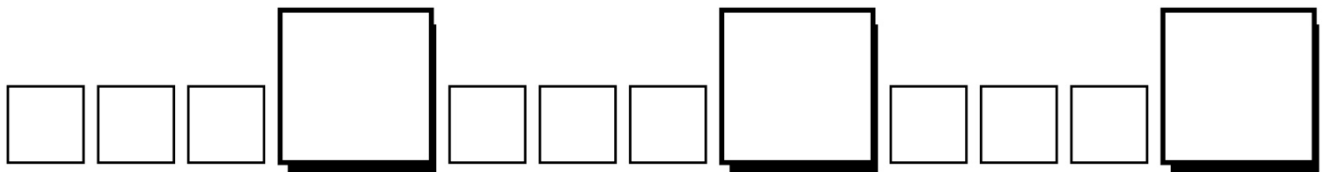
---

La régularité du premier attribut :

---

La régularité du deuxième attribut :

---



Les attributs qui changent :

---

La régularité du premier attribut :


---

La régularité du deuxième attribut :

---

## Deux attributs qui changent (partie 2)

Quels attributs changent dans chaque régularité ? Encerle le motif.  
Quelle est la régularité de chaque attribut ?



Les attributs qui changent :

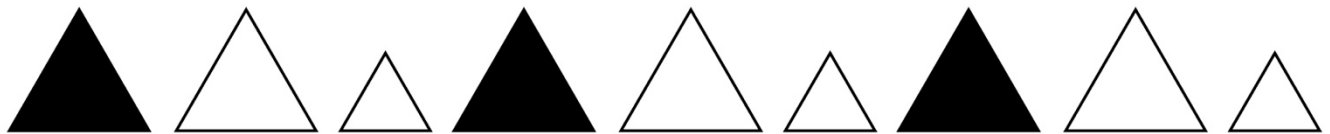
\_\_\_\_\_

La régularité du premier attribut :

\_\_\_\_\_

La régularité du deuxième attribut :

\_\_\_\_\_



Les attributs qui changent :

\_\_\_\_\_

La régularité du premier attribut :

\_\_\_\_\_

La régularité du deuxième attribut :

\_\_\_\_\_

Fiche 9b

## Deux attributs qui changent (pour Accommodation)

Encerle le motif.



La régularité de taille :

\_\_\_\_\_

La régularité de couleur :

\_\_\_\_\_



La régularité de couleur :

\_\_\_\_\_

La régularité de forme :

\_\_\_\_\_

Essaie celui-ci par toi-même.



\_\_\_\_\_ :

\_\_\_\_\_

\_\_\_\_\_ :

\_\_\_\_\_