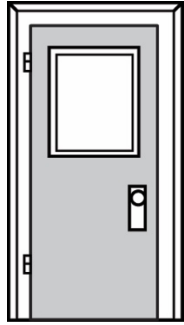


Combien de mètres ? (partie 1)

La hauteur de la porte de la salle de classe



Notre estimation est

Notre mesure est


La longueur du bureau de l'enseignant



Notre estimation est

Notre mesure est

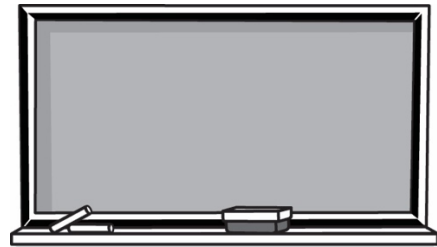
La largeur de la fenêtre



Notre estimation est

Notre mesure est

La longueur du tableau noir



Notre estimation est

Notre mesure est

Fiche 13b

Combien de mètres ? (partie 2)

La largeur du corridor



Notre estimation est

Notre mesure est


La longueur du tableau blanc



Notre estimation est

Notre mesure est

La longueur de la salle de classe



Notre estimation est

Notre mesure est

La longueur de la bibliothèque



Notre estimation est

Notre mesure est
