

Nom _____ Date _____

Fiche 10a

Deux attributs qui changent (partie 1)

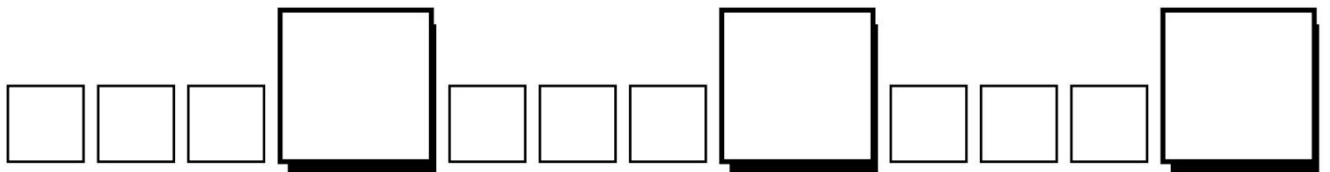
Quels attributs changent dans chaque régularité ? Encerle le motif.
Quelle est la régularité de chaque attribut ?



Les attributs qui changent :

La régularité du premier attribut :

La régularité du deuxième attribut :



Les attributs qui changent :


La régularité du premier attribut :

La régularité du deuxième attribut :

Fiche 10a

Deux attributs qui changent (partie 2)

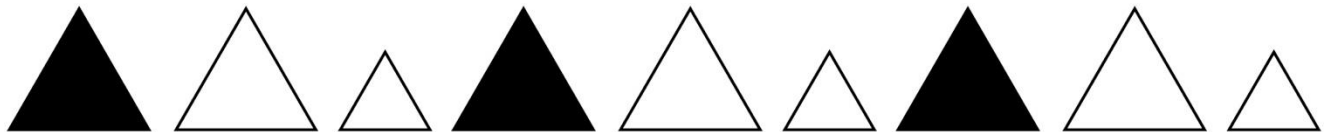
Quels attributs changent dans chaque régularité ? Encerle le motif.
Quelle est la régularité de chaque attribut ?



Les attributs qui changent :

La régularité du premier attribut :

La régularité du deuxième attribut :



Les attributs qui changent :

La régularité du premier attribut :

La régularité du deuxième attribut :

Fiche 10b

Deux attributs qui changent (pour Accommodation)

Encerle le motif.



La régularité de taille :

La régularité de couleur :



La régularité de couleur :

La régularité de forme :

Essaie celui-ci par toi-même.



_____ :

_____ :
