

Nom : \_\_\_\_\_ Date : \_\_\_\_\_

FICHE D'ACTIVITÉ 18

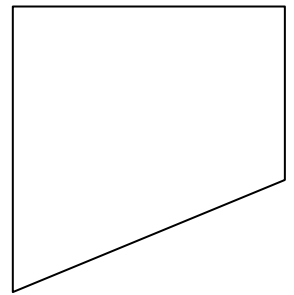
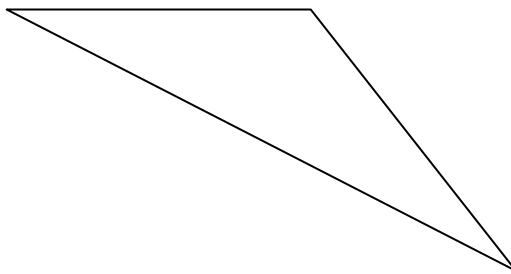

## Mise au point 16

### Partie A

Quels angles sont des angles droits ?

Quels angles sont plus grands qu'un angle droit ?

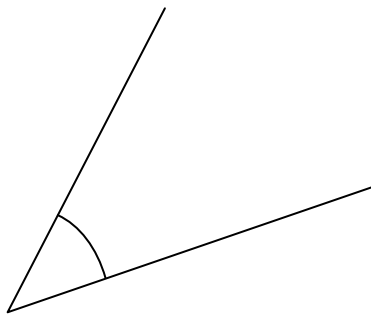
Quels angles sont plus petits qu'un angle droit ?



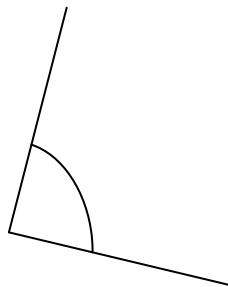
### Partie B

Ordonne les angles du plus grand au plus petit.

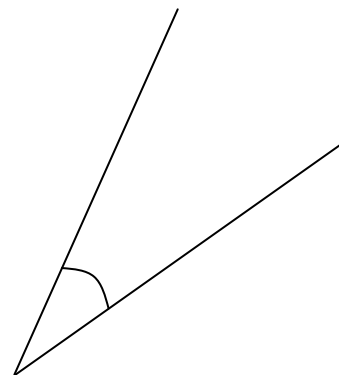
Comment pourrais-tu prouver que ton raisonnement est juste ?



Angle A



Angle B



Angle C