

FICHE D'ACTIVITÉ 16

Mise au point 14

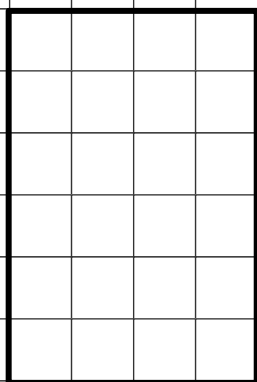


Figure A

Périmètre = _____ unités

Superficie = _____ unités carrées

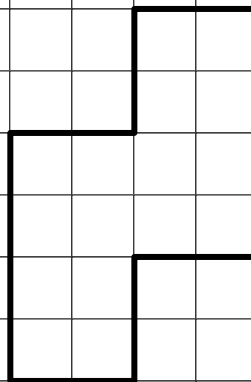


Figure B

Périmètre = _____ unités

Superficie = _____ unités carrées

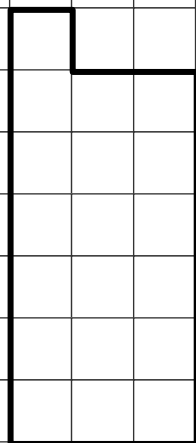


Figure C

Périmètre = _____ unités

Superficie = _____ unités carrées

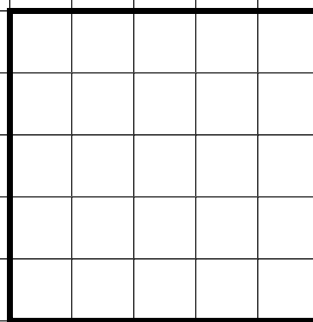


Figure D

Périmètre = _____ unités

Superficie = _____ unités carrées