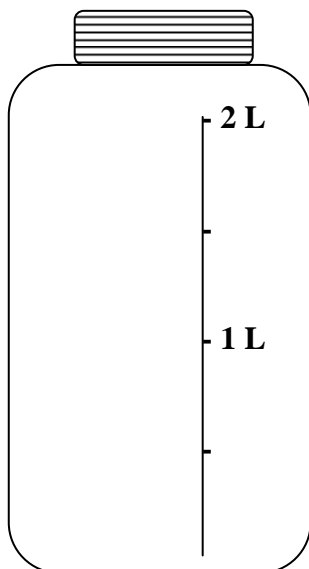


Nom : \_\_\_\_\_ Date : \_\_\_\_\_

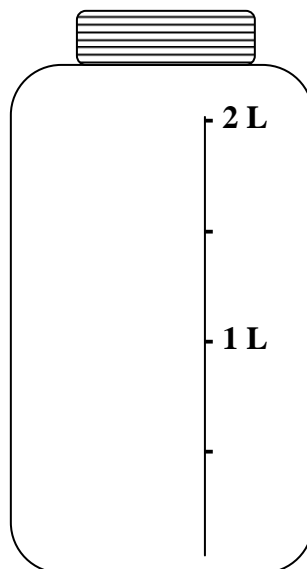
FICHE D'ACTIVITÉ 3

## Mise au point 3

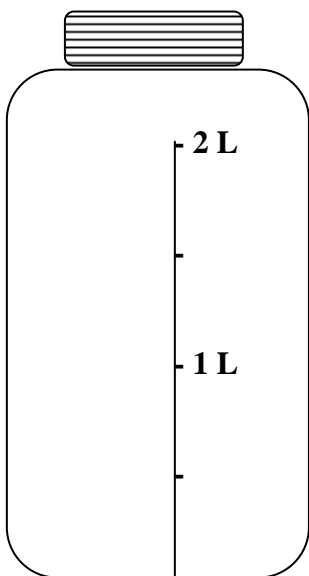
Dessine une ligne pour montrer quel serait le niveau de liquide si chaque bocal contenait la quantité indiquée.



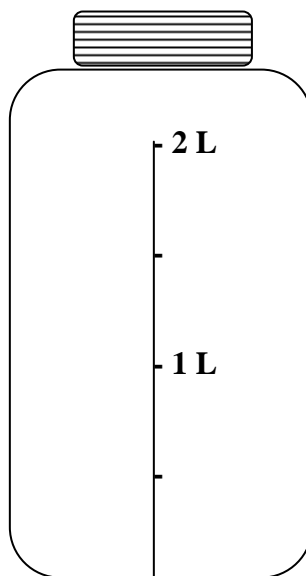
1,5 litre



0,2 litre



1,8 litre



0,8 litre