

Nom : _____ Date : _____

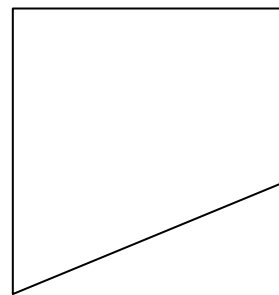
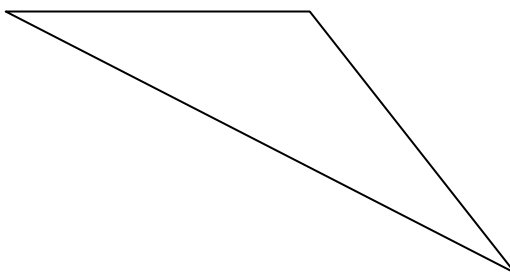
FICHE D'ACTIVITÉ 15.1

Partie A

Quels angles sont des angles droits ?

Quels angles sont plus grands qu'un angle droit ?

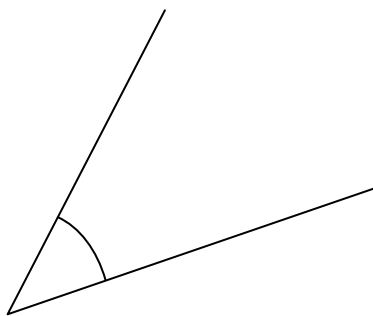
Quels angles sont plus petits qu'un angle droit ?



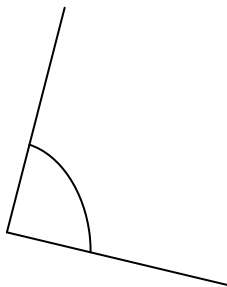
Partie B

Ordonne les angles du plus grand au plus petit.

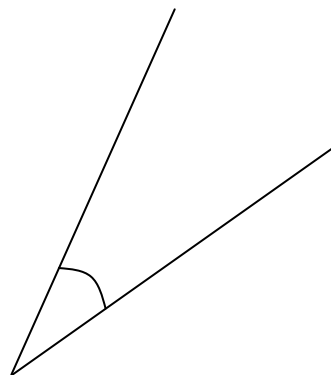
Comment pourrais-tu prouver que ton raisonnement est juste ?



Angle A



Angle B



Angle C