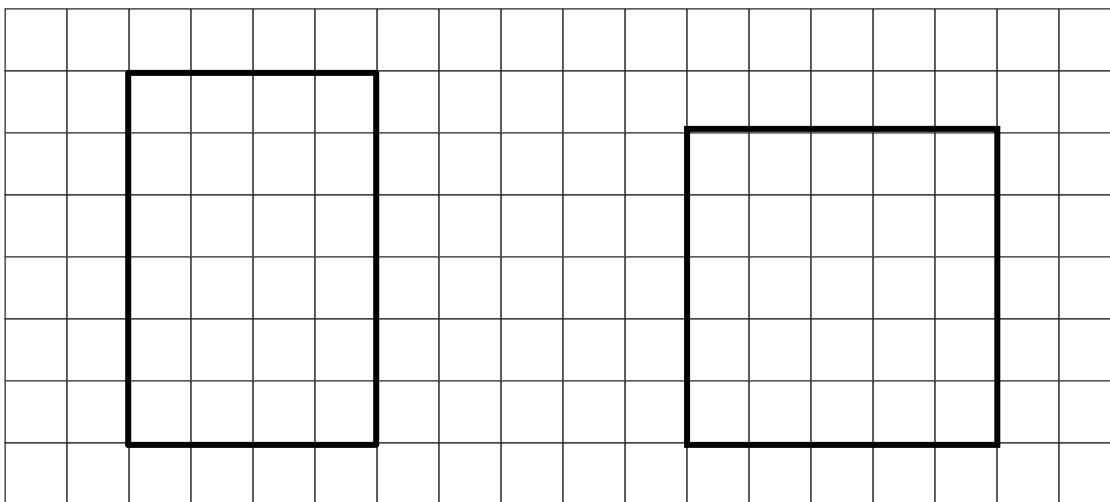


Nom : _____ Date : _____

FICHE D'ACTIVITÉ 12.1

Partie A

Trouve le périmètre et l'aire de chaque figure.



Périmètre = _____ unités

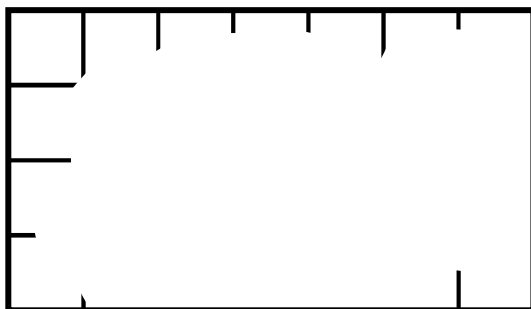
Aire = _____ unités carrées

Périmètre = _____ unités

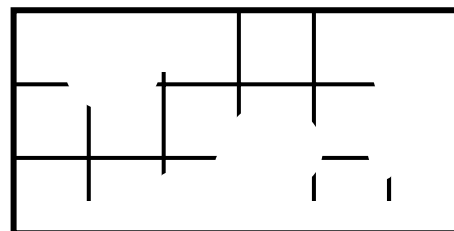
Aire = _____ unités carrées

Partie B

Trouve l'aire de chaque rectangle.



Aire = _____ unités carrées



Aire = _____ unités carrées