

Nom _____ Date _____

Le nombre
Unité 1, Fiche 7a

Est-ce le nombre d'or ?

Objet	Longueur	Largeur	Longueur : Largeur	S'agit-il du nombre d'or ?

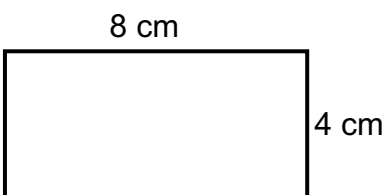
Nom _____ Date _____

Le nombre
Unité 1, Fiche 7b

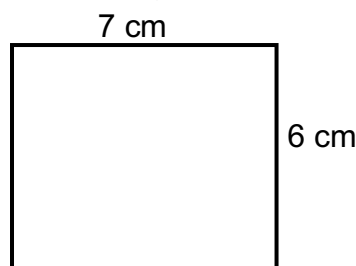
Lequel est le nombre d'or ?

Quel rectangle est le plus proche du nombre d'or ?

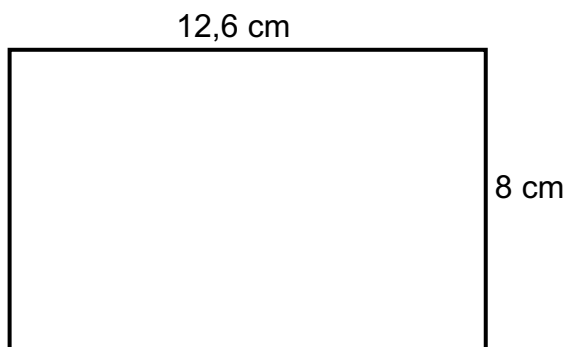
Rectangle A



Rectangle B



Rectangle C



Rectangle	Longueur (cm)	Largeur (cm)	Longueur : Largeur
A			
B			
C			