
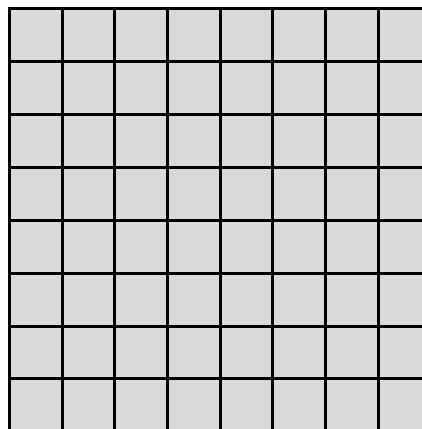



Explorer le théorème de Pythagore

Découpez les 3 carrés. Placez-les sur une feuille de papier de manière à former un triangle à leur centre.



Nom _____

Date_____

La mesure
Unité 1, Fiche 1b

Explorer le théorème de Pythagore (suite)

1. Quel type de triangle avez-vous formé ? Comment le savez-vous ?
2. Quelle est l'aire de chaque carré ? Comparez les aires.
Que remarquez-vous ?