

## Représenter graphiquement des inégalités

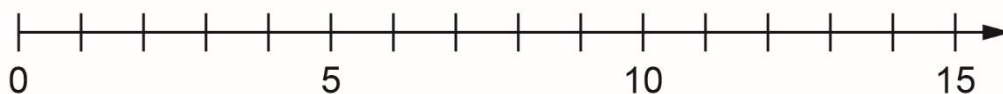
Travaille avec un partenaire.

Résolvez chaque inégalité en utilisant la méthode de votre choix.

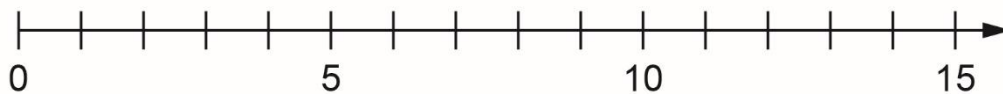
Représentez graphiquement chaque solution sur la droite numérique.

Montrez votre travail.

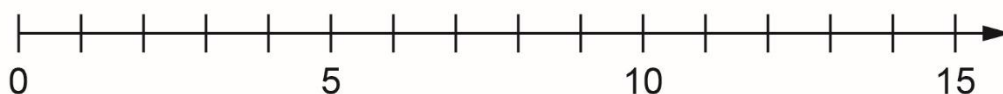
1.  $3x + 4 > 37$



2.  $17 \geq 3p - 4$

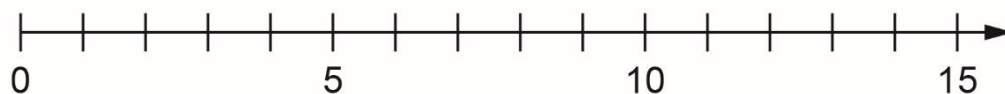


3.  $23 - 5 < 7m - 5m$



## Représenter graphiquement des inégalités (suite)

4.  $n + 3n - 6 \geq 42$



5.  $17 - 2s \leq 3s + 2$

